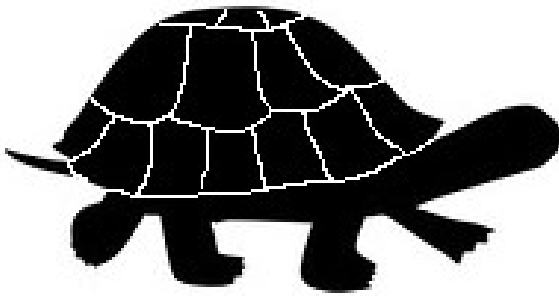


IL Y A UN OS !

Fiche 2

Observe bien ces silhouettes d'êtres actuels ou de certaines de leurs parties. Après avoir identifié les diverses parties visibles, entoure celles qu'on a le plus de chances de retrouver fossilisées (lentement transformées en une sorte de roche après la mort de l'animal). Pour chaque partie potentiellement conservée, trouve des exemples dans l'exposition et notes-en les noms sur les pointillés (aide toi des textes des cartels : petites affiches).



.....

.....

.....

.....




.....

.....

.....

.....



.....

.....

.....

.....




.....

.....


.....

.....



.....
.....
.....
.....

.....
.....
.....
.....



.....
.....
.....
.....

.....
.....
.....
.....