



**Ceci est le jeu de carte
qui vous aidera à répondre
au questionnaire.
Bonne visite !**



**Ceci est le jeu de carte
qui vous aidera à répondre
au questionnaire.
Bonne visite !**




Indice n°1

La femme au centre du tableau est une déesse, de quoi ?



Indice n°2

Par quoi est assurée la pollinisation de l'orchidée ?



Indice n°3

**Comment s'appelle
l'appareil reproducteur
mâle et femelle ?**



Indice n°4

**Qui est attiré par une forte
odeur sucrée ?**



Indice n°5

**À quoi servent les cornes,
les défenses et les bois des
animaux ?**



Indice n°6

**Que fait l'araignée paon
pour attirer sa femelle ?**



Indice n°7

**À quoi sert principalement
la capacité du caméléon à
changer de couleur ?**



Indice n°8

**Les Desmans des Pyrénées
forment des couples ... ?**



Indice n°9

**À quelle distance peut-on
entendre le chant du
Siamang ?**



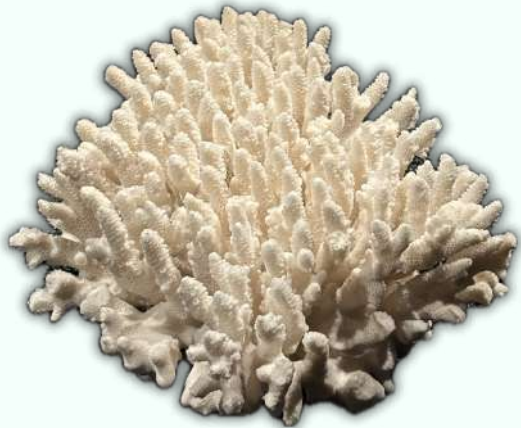
Indice n°10

**Quel est le nom de
l'appareil reproducteur
femelle chez la mousse ?**



Indice n°1

Qu'est ce qui n'est pas rare chez les manchots d'Adélie ?



Indice n°2

Quel est le pourcentage de coraux hermaphrodites ?



Indice n°3

A quoi servent les cris du cerf ?



Indice n°4

Comment décrirais-tu l'odeur des phéromones de papillon ?



Indice n°5

**Quelles couleurs l'oiseau
jardinier préfère-t-il ?**



Indice n°6

**Quelle est la taille de
l'Argonaute voilier femelle
et celle du mâle ? Qu'en
conclus-tu ?**



Indice n°7

**En se basant sur la photo,
quelles sont les
caractéristiques de la
plante mâle et de la plante
femelle ?**



Indice n°8

**Qui est la personne sur
cette photo?**




Indice n°9

**À quelle distance peut-on
entendre le chant du
Siamang ?**



Indice n°10

**Quel est le nom de
l'appareil reproducteur
femelle chez la mousse ?**



Indice n°3

**Comment s'appelle
l'appareil reproducteur
mâle et femelle ?**



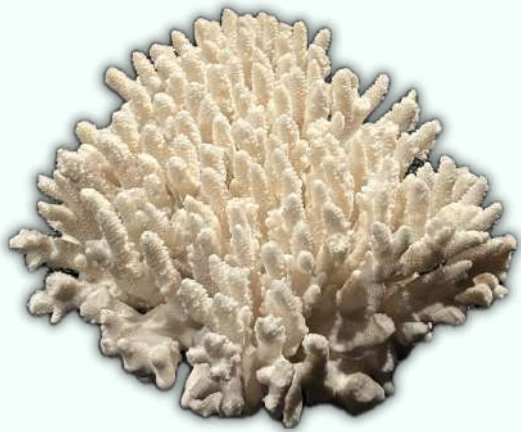
Indice n°4

**Qui est attiré par une forte
odeur sucrée ?**



Indice n°5

**À quoi servent les cornes,
les défenses et les bois des
animaux ?**



**Quel est le pourcentage de
coraux hermaphrodites ?**



Indice n°3

À quoi servent les cris du cerf ?



Indice n°4

Comment décrirais-tu l'odeur des phéromones de papillon ?



Indice n°5

**Quelles couleurs l'oiseau
jardinier préfère-t-il ?**



Indice n°6

**Quelle est la taille de
l'Argonaute voilier femelle
et celle du mâle ? Qu'en
conclus-tu ?**